

संच : ब

# तिसरी - गणित (मराठी माध्यम)



महाराष्ट्र विद्या प्राधिकरण, पुणे ३०.

प्रगत शैक्षणिक महाराष्ट्र

शैक्षणिक प्रगती चाचणी

पायाभूत चाचणी २०१७-१८ : इयत्ता - तिसरी

विषय : गणित (लेखी)

विद्यार्थ्यांचे नाव : \_\_\_\_\_

शाळेचे नाव : \_\_\_\_\_ दिनांक : / / २०१७

केंद्र : \_\_\_\_\_ ता. \_\_\_\_\_ जि. \_\_\_\_\_ प्राप्त गुण :

हजेरी क्रमांक :  तुकडी : \_\_\_\_\_ शिक्षकांची स्वाक्षरी \_\_\_\_\_ लेखी गुण :

प्रत्येक प्रश्नास एक गुण आहे. सर्व प्रश्न सोडवावेत.

प्र. १ अ) चोवीस ही संख्या अंकात लिही.

प्र. १ ब) संख्या अक्षरात लिही. १९ \_\_\_\_\_

प्र. १ क) दिलेल्या संख्या उतरत्या क्रमाने लिही.

३३ , २८ , ६०

<input type="text"/>	<input type="text"/>	<input type="text"/>
----------------------	----------------------	----------------------

पायाभूत चाचणी २०१७-१८ : इयत्ता - तिसरी : विषय - गणित : (१)

संच : ब

प्र. १ ड) मोठ्या संख्येभोवती गोल कर.

२३      ३२

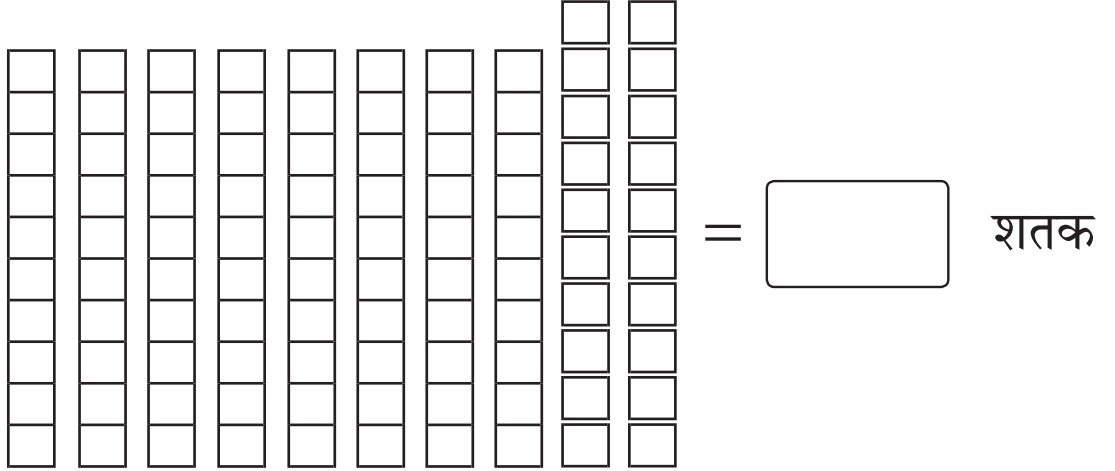
प्र. १ इ) टप्प्याने येणारी संख्या लिही.

१८ , २१ , २४ ,  , ३०


प्र. १ फ) संख्या दशक - एकक रूपात लिही.

संख्या	दशक	एकक
६७		

प्र. १ ग) खालील सुटे व दशक दांड्यांचे निरीक्षण करून चौकटीत योग्य संख्या लिही.



प्र. १ ह) चौकटीतील कोणतेही दोन अंक घेऊन दोन अंकी संख्या तयार कर.



पायाभूत चाचणी २०१७-१८ : इयत्ता - तिसरी : विषय - गणित : (२)

संच : ब

प्र. २ अ) एका शाळेच्या इयत्ता ३ री च्या वर्गात चित्रात दाखविल्याप्रमाणे मुली व मुलगे आहेत. एकूण मुलांची संख्या मोजून चौकटीत लिहून बेरीज कर.

एकूण मुलांची संख्या

प्र. २ ब) बेरीज कर.

द	ए
३	३
+	१
२	५

प्र. २ क) बेरीज कर.

द	ए
३	४
+	७
४	

पायाभूत चाचणी २०१७-१८ : इयत्ता - तिसरी : विषय - गणित : (३)

संच : ब

प्र. २ ड) शाळेच्या बागेत जास्वंदीची २१ रोपे लावली व चाफ्याची २४ रोपे लावली तर शाळेच्या बागेत एकूण किती नवीन रोपे लावली?

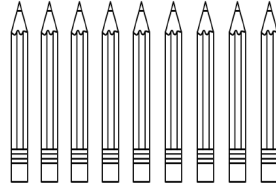
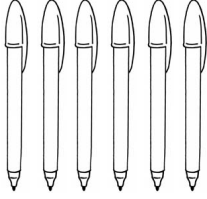
दशक	एकक

← जास्वंदीची रोपे

← चाफ्याची रोपे

← एकूण रोपे

प्र. ३ अ) पेन पेन्सिलीपेक्षा कितीने कमी आहेत ते लिही.



प्र. ३ ब) वजाबाकी कर.

द	ए
२	९
—	
१	२

प्र. ३ क) वजाबाकी कर.

द	ए
५	६
—	
२	८

पायाभूत चाचणी २०१७-१८ : इयत्ता - तिसरी : विषय - गणित : (४)

संच : ब

प्र. ३ ड) एका बसमधून ४९ प्रवासी प्रवास करत होते. त्यापैकी १६ स्त्रिया होत्या, तर पुरुष प्रवासी किती असतील?

दशक	एकक

← बसमधील एकूण प्रवाशांची संख्या

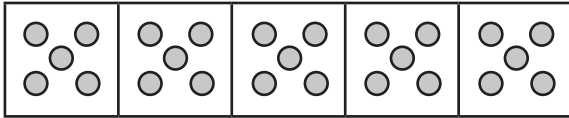
← स्त्री प्रवाशांची संख्या

← पुरुष प्रवाशांची संख्या

प्र. ४ अ) बेरीज कर.

द	ए
५	७
+	०

प्र. ४ ब) निरीक्षण कर गुणाकार रूपात लिही.



← एका गटातील टिकल्या

×  
← एकूण गटांची संख्या

← सर्व गटातील एकूण टिकल्यांची संख्या

पायाभूत चाचणी २०१७-१८ : इयत्ता - तिसरी : विषय - गणित : (५)


संच : ब

प्र. ५ अ) गौरीची उंची कशाने मोजाल?

गौरी →



प्र. ५ ब) खालीलपैकी कोणत्या भांड्यात जास्त दूध मावेल त्याखाली ✓ अशी खूण कर.



प्र. ५ क) चौकटीत योग्य महिन्याचे नाव लिही.

मार्च, एप्रिल, , जून

प्र. ५ ड) दुकानदाराला ₹ ५० रक्कम देण्यासाठी खालील नोटांमधून कोणत्या किती नोटा द्याव्या लागतील?

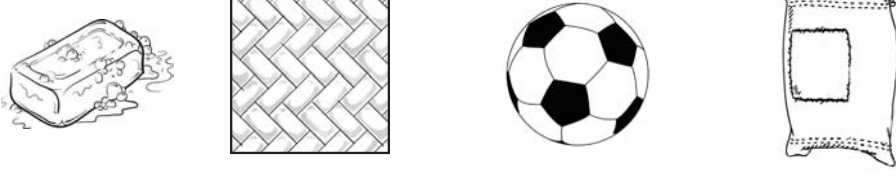


नोट	संख्या
₹ २०	
₹ १०	
₹ ५	

पायाभूत चाचणी २०१७-१८ : इयत्ता - तिसरी : विषय - गणित : (६)

संच : ब

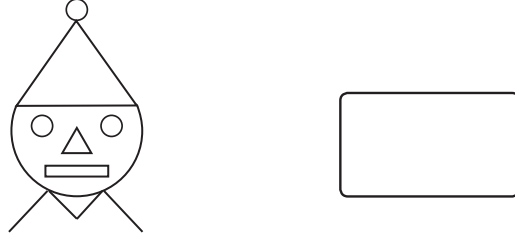
प्र. ६ अ) चित्रातील कोणती वस्तू घरंगळेल त्याभोवती वर्तुळ कर.




प्र. ६ ब) पुढे दिलेल्या इंग्रजी अक्षरांपैकी ज्या अक्षराची रचना सरळ रेषेच्या भागापासून झाली आहे त्या अक्षराभोवती वर्तुळ कर.

C Q O H

प्र. ६ क) आकृतीचे निरीक्षण करून वर्तुळाची संख्या लिही.



प्र. ६ ड) धावण्याच्या स्पर्धेत सर्वात पुढे कोण आहे? त्याच्या नावाभोवती वर्तुळ कर.



हरभजन

ललिता

तौसिफ

कविता

पायाभूत चाचणी २०१७-१८ : इयत्ता - तिसरी : विषय - गणित : (७)

संच : ब

प्र. ७ अ) संख्या आकृतिबंध पूर्ण कर.

२५	२०	१५		५
----	----	----	--	---

प्र. ७ ब) आकृतिबंध पूर्ण कर.

—	+	—		—
---	---	---	--	---

प्र. ८. पुढील माहितीच्या आधारे प्रश्न क्र. ८ अ व ब ची उत्तरे लिही.

ऋतू व त्यात येणारे महिने	
ऋतू	महिने
उन्हाळा	चैत्र, वैशाख, जेष्ठ, आषाढ
पावसाळा	श्रावण, भाद्रपद, आश्विन, कार्तिक
हिवाळा	मार्गशीर्ष (अग्रहायण), पौष, माघ, फाल्गुन

प्र. ८ अ) वैशाख महिना कोणत्या ऋतूत येतो? \_\_\_\_\_

प्र. ८ ब) प्रत्येक ऋतूत किती महिने येतात? \_\_\_\_\_

