

برج کورس ۲۰۲۳ء - ریاضی - پانچویں جماعت - بعد کی جانچ (Post Test)

20

کل نمبرات:

جماعت: پانچویں (V)

طالب علم کا نام: ..... حاضری نمبر: .....

اسکول کا نام: ..... تاریخ: .....

(ہدایت: ہر سوال کے لیے 1 نمبر)

سوال 1: بین الاقوامی ہندی علامتوں کا استعمال کر کے عدد لکھو۔

ستر ہزار آٹھ سو بائیس:

سوال 3: حادہ زاویہ کے گرد دائرہ بناؤ۔

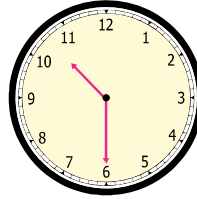


$$6547 + 2357 =$$

سوال 5: حل کرو۔

سوال 2: گھڑی کا مشاہدہ کر کے وقت لکھو۔

(گھنٹے اور منٹ میں)



.....

سوال 4: توسیعی شکل کی مدد سے عدد لکھو۔

$$5000 + 200 + 7 =$$

سوال 7: حل کرو۔

$$\begin{array}{r} 8 \overline{) 872} \end{array}$$

سوال 6: درج ذیل مثال کو کھڑی ترتیب دے کر حل کرو۔

$$7503 - 343$$

ہ	س	د	ا
-			

سوال 9 : عمر نے تحفہ دینے کے لیے 75 بیاض خریدے۔ اگر اس نے ہر ایک کو 5 بیاض دیے تو بتاؤ اس نے کتنے لوگوں کو بیاض دیے؟

سوال 8 : ایک باغ میں 15 قطاریں ہیں۔ اگر ہر قطار میں 18 کا جو کے درخت لگائے جائیں تو بتاؤ کا جو کے کل کتنے درخت لگائے گئے؟

سوال 11 : عدد 4580 میں مزید تین دہائی اور چار سیکرہ ملانے پر کل عدد کتنا ہوگا؟

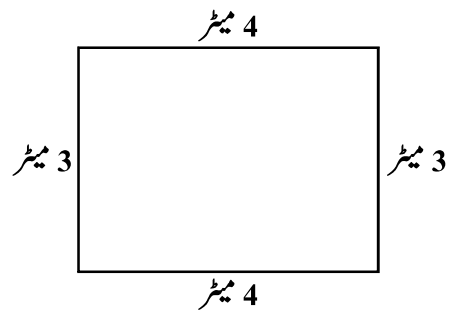
سوال 10 : ایک گاؤں کی آبادی 27,058 تھی۔ دو برسوں کے بعد 31,468 ہو گئی تو آبادی میں کتنا اضافہ ہوا؟

سوال 13 : ذیل کی کل رقم کتنی؟




کل رقم = ₹

سوال 12 : دیے ہوئے مستطیل کا احاطہ کتنا؟






= مستطیل کا احاطہ

ہدایت برائے سوال 14 اور 15 کے لیے ہدایت: ذیل کی تصویری ترسیم کا مشاہدہ کر کے جواب لکھو۔

پیمانہ:  = 10 خاندان

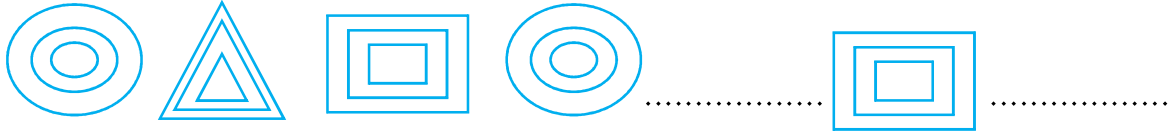
سوال 14: جواری کی فصل حاصل کرنے والے خاندان کتنے؟

فصلیں	خاندان
گیہوں	
جواری	
چنا	

سوال 15: اگر چنا اور جواری کی فصل حاصل کرنے والے


خاندانوں کو ایک ساتھ ملا یا جائے تو یہ گیہوں کی فصل حاصل کرنے والے خاندان سے کتنے زیادہ ہوں گے؟

سوال 16: درج ذیل نقاشی کا تواتر مکمل کرو۔



سوال 18: ایک میٹر کپڑے کی قیمت 100 روپے ہے تب ڈھائی میٹر کپڑے کی قیمت کتنی ہوگی؟

سوال 17: عمر کے پاس سنترے کی 24 پیٹیاں ہیں۔ اگر ہر پیٹی میں 12 سنترے ہوں تو اس کے پاس کل کتنے سنترے ہوں گے؟

×	20	4	
10			
2			

سوال 20: نیچے دی ہوئی شکل میں سبھی چھوٹے مربعوں کا رقبہ 1 مربع سم ہے تو پوری شکل کا رقبہ کتنا ہوگا؟



شکل کا رقبہ: ..... مربع سم

سوال 19: دی ہوئی کسر کو لفظوں میں لکھو۔

$$2 \frac{3}{4}$$

.....  
.....