

برج کورس ۲۰۲۳ء - ریاضی - تیسری جماعت - بعد کی جانچ (Post Test)

20

کل نمبرات:

جماعت: تیسری (III)

طالب علم کا نام: ..... حاضری نمبر: .....

اسکول کا نام: ..... تاریخ: .....


(02) سوال ۱: عدد کو ہندسوں میں لکھو۔

(۱) سینتیس:  (۲) اُسٹھ:

(02) سوال ۲: عدد کو لفظوں میں لکھو۔

(۱) ۳۹: ..... (۳) ۵۵: .....

(02) سوال ۳: ۱۰-۱۰ کے گروپ (گروہ) بناؤ۔ کتنے گروپ (گروہ) بنیں گے؟



۱۰-۱۰ کے  گروہ

(02) سوال ۴: ذیل میں دیے گئے اعداد کے سلسلے (مرحلے) کو پہچانو اور خالی چوکون میں مناسب عدد لکھو۔

(۱) 

۱۲	۱۵		۲۱	۲۴
----	----	--	----	----

 (۲) 

۱۵	۲۰		۳۰	۳۵	۴۰
----	----	--	----	----	----

سوال ۵: جمع کرو۔

	دہائی	اکائی		دہائی	اکائی
+	۳	۸	+	۴	۶
	۵	۰		۲	۸

(02)

سوال ۶ : تفریق کرو۔

اکائی	دہائی
۸	۵
۱	۳

اکائی	دہائی
۱	۷
۶	۳

(02)



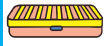

سوال ۷ : ذیل کے اعداد کو چڑھتی ترتیب اور اترتی ترتیب میں لکھو۔

۴۱ ، ۳۹ ، ۴۰

اُترتی ترتیب =    چڑھتی ترتیب =

(02)

سوال ۸ : اگر ذیل میں دی ہوئی چیزیں خریدی گئیں تو دکاندار کو کتنے روپے دینے ہوں گے؟

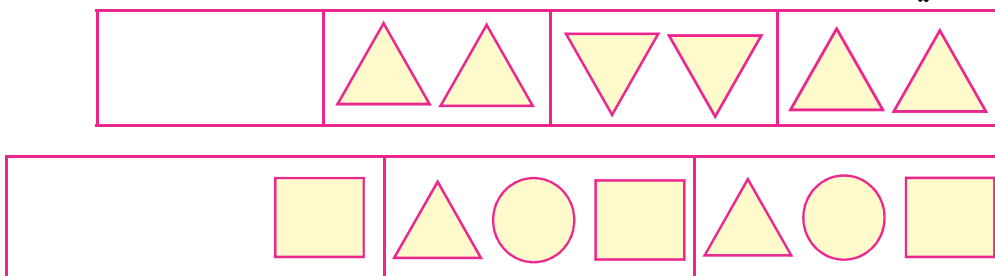
چیزیں	قیمت
	۱۵ روپے
	۵ روپے
	۵۰ روپے
	۱۰ روپے

(۱) دو قلم خریدنے پر  روپے

(۲) ۱ کمپاس اور ۲ ربر خریدنے پر  روپے

(02)

سوال ۹ : ذیل کے اشکال کے تواتر کو مکمل کرو۔



(02)

سوال ۱۰ : ذیل کی اشکال کو غور سے دیکھو اور سب سے وزنی چیز کے سامنے صحیح (✓) کا نشان لگاؤ۔

