

सेतू अभ्यास : गणित – इयत्ता चौथी : उत्तर चाचणी

इयत्ता : चौथी

एकूण गुण :

२०

विद्यार्थ्यांचे नाव :

हजेरी क्र.:

शाळेचे नाव :

दिनांक :

प्र. १) खालील आकृत्यांची नावे लिही.

(२ गुण)



.....

प्र. २) खाली दिलेली संख्या अंकांत व अक्षरांत लिही.

(२ गुण)

अंकांत

अक्षरांत

१) ४ शतक ५ दशक ० एकक

.....

२) ९ शतक ० दशक ६ एकक

.....

प्र. ३) खालील उदाहरणे सोडव.

(२ गुण)

१) १३५ लाल गोट्या आणि
२५७ निळ्या गोट्या मिळून
एकूण किती गोट्या होतील?

+

श	द	ए

लाल गोट्या
निळ्या गोट्या
एकूण गोट्या

२) ५६५ आंब्यांपैकी ३७६ आंबे
खाऊन संपले तर उरलेले
आंबे किती?

-

श	द	ए

एकूण आंबे
खाल्लेले आंबे
उरलेले आंबे

प्र. ४) १) दिलेल्या संख्येचे विस्तारित रूप लिही.

(२ गुण)

$$५१० = \boxed{} + \boxed{} + \boxed{}$$

२) विस्तारित रूपावरून संख्या लिही.

$$८०० + ६ = \boxed{}$$

प्र. ५) ६०५, ५१९, ८३६, २०८, ४७९ या संख्या चढत्या व उतरत्या क्रमाने लिही.

(२ गुण)

१) चढता क्रम :

२) उतरता क्रम :

प्र. ६) खाली विचारलेल्या प्रश्नांची उत्तरे लिही.

(२ गुण)

१) नीताजवळ ५०० रुपयाची एक नोट व २०० रुपयांच्या दोन नोटा आहेत, तर नीताजवळ एकूण किती रुपये आहेत?

एकूण रुपये

२) रमेशजवळ २०० रुपयाची एक नोट, ५० रुपयांच्या तीन नोटा व २० रुपयांच्या ६ नोटा आहेत, तर रमेशजवळ एकूण रुपये किती?

एकूण रुपये


प्र. ७) घड्याळात किती वाजले आहेत? ते लिही.

(२ गुण)

१)



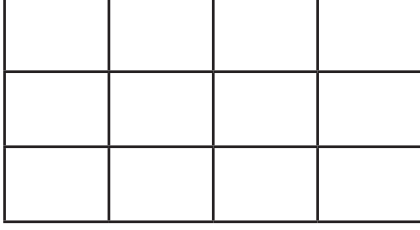
२)



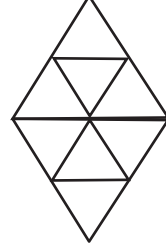
प्र. ८) खालील आकृतीचा दिलेला भाग रंगव.

(२ गुण)

१) पाऊण भाग रंगव.



२) अर्धा भाग रंगव.



प्र. ९) खालील उदाहरणे सोडव. (प्रत्येकी १ गुण)

(२ गुण)

१) एका वहीची किंमत ३५ रुपये आहे, तर अशा ९ वह्यांची एकूण किंमत किती होईल?

२) २४ फुले ६ टोपल्यांमध्ये समान संख्येत ठेवायची आहेत, तर प्रत्येक टोपलीत किती फुले येतील?

प्र. १०) चौकटींत योग्य उत्तरे लिही.

(२ गुण)

१) ३०० सेमी = मीटर

२) ४ किलोग्रॅम = ग्रॅम

३) पाव लीटर = मिलिलीटर

४) अर्धा किमी = मीटर